

4. SINIF HAFTALIK DEĞERLENDİRME 22. HAFTA

* Aşağıdaki parantezle belirtilen yerlere uygun noktalama işaretlerini koyalım.

- Neden böyle yaptı bilmiyorum (.)
- Doktor (.) Ahmet Bey'i tedavi etti.
- Eyvah (!) cam kırıldı (!)
- Dersimiz 08 (:) 30 (:) da başlıyor.
- Annem pazardan elma (,) armut, şeftali ve üzüm aldı.

* Aşağıdaki kelimeleri hecelerine ayıralım.

| | |
|-------------|----------------------|
| kızılay | ki - zi - lay |
| yayınevi | ya - yı - ne - vi |
| Eminönü | E - mi - nö - nü |
| günaydın | gü - nay - dın |
| başöğretmen | ba - şöğ - ret - men |
| Çukurova | Çu - ku - ro - va |
| denizaltı | de - ni - zal - tı |

* Aşağıdaki cümlede verilen yazım yanlışlarını düzelterek tekrar yazalım.

Efeler dün ankaraya gittilermi?
→ Efeler dün Ankara'ya gittiler mi?

* Aşağıdaki ifadeler doğruysa D, yanlışsa Y yazalım.

- Ⓛ Uzun süre bilgisayar başında oturmak sağlığımız için zararlıdır.
- Ⓢ Teknolojik araçlar bozulduğunda çöpe atmalıyız.
- Ⓛ Yeni bir teknolojik ürün aldığımızda kullanım kılavuzunu okumalıyız.

* Aşağıdaki verilen saatleri dakika olarak yazalım.

3 sa. = 180 dk. 10 sa = 600 dk.
7 sa = 420 dk. 15 sa = 900 dk.

* Aşağıdaki verilen dakikalara saate çevirelim.

480 dk. = 8 sa. 540 dk. = 9 sa.
120 dk = 2 sa. 720 dk. = 12 sa.

* Aşağıdaki çevirmeleri yapalım.

2 dk. 12 sn. = 132 sn. 5 dk. 30 sn. = 330 sn.
3 sa. 42 dk = 222 dk. 6 sa. 15 dk. = 375 dk.

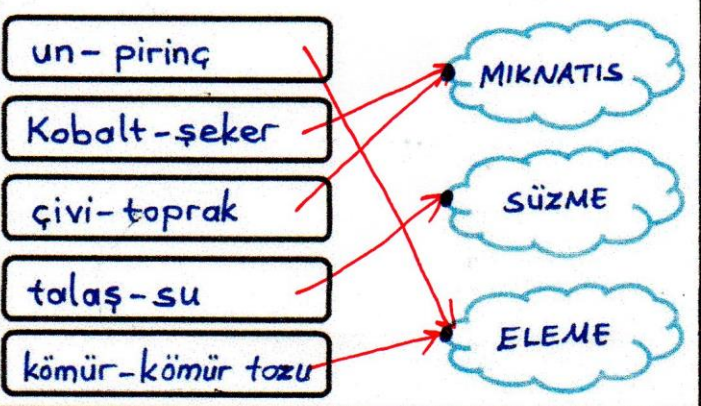
* Aşağıdaki çevirmeleri yapalım.

3 yıl = 36 ay 6 hafta = 42 gün
60 ay = 5 yıl 1 yıl = 52 hafta

* Kesir çeşitlerini yazalım.

$\frac{3}{7}$ → Basit kesir $\frac{10}{10}$ → Bileşik kesir
 $2\frac{4}{5}$ → Tam Sayılı kesir $\frac{11}{9}$ → Bileşik kesir

* Aşağıdaki eşleştirmeleri yapalım.



1) Aşağıdaki seçeneklerin hangisinin de noktalama yanlışlığı yapılmıştır?

A) Vah vah, sen de gelmiyorsun demek ki!

B) Güzel, güzel ödevini yapmalısın. ikileme arasında noktalama işi olmaz

C) Hişt! Buraya gelir misin?

D) Sen neden gitmedin ki?

5)

900 dk = ..I... sn
540 sn = ..II... dk

Yukarıdaki boşluklara sırasıyla aşağıdakilerden hangisi gelmelidir?

A) $\frac{I}{9}$ - $\frac{II}{15}$ $900 \div 60 = 15$
B) 12 - 8 $540 \div 60 = 9$
C) 15 - 9
D) 12 - 9

2) Aşağıdaki adlardan hangisinin tamamı topluluk adıdır?

A) masalar, aile, çanta

B) kapı, küme, sürü

C) demet, top, kalemler

D) deste, sürü, konvoy

6) $\frac{3}{7}$ 'ü 9 olan sayının $\frac{2}{3}$ 'ü kaçtır?

A) 35

B) 21

C) 14

D) 6

~~3333~~ 3333

9

$7 \times 3 = 21$

$21 \div 3 = 7$

$7 \times 2 = 14$

$\frac{2}{3}$ 'ü

3) Aşağıdaki cümlelerin hangisinde yazım yanlışlığı yapılmamıştır?

A) Ankara'nın Güneyinde oturuyor.

B) Handan Pollyanna kitabını okuyor.

C) 13 Ağustos 2013 yılında doğmuş.

D) Hasan da Eminönü'ne gitmiş.

7) Aşağıda yarışmacıların yarışmayı bitirme süreleri verilmiştir. Buna göre hangi yarışmacı birinci olmuştur?

A) Leman - 3 dk. 24 sn.

B) Samet - 193 sn. $\rightarrow 3$ dk 13 sn

C) Pınar - 3 dk 16 sn.

D) Oktay - 214 sn. $\rightarrow 3$ dk 34 sn

en kısa sürede bitiren

4) Teknolojik ürünlerle fazla vakit geçirmek aşağıdaki sorunlardan hangisine sebep olmaz?

A) Dikkat dağınıklığı

B) Beslenme düzensizliği

C) Dinç kalmaya

D) Bel, boyun ağrıları

8) 1-limonata

2-suv

3-salata

4-ayran

5-altın

6-kömür

Yukarıda verilen maddelerden hangileri saf maddedir?

A) 2 - 5 - 6

B) 1 - 2 - 5

C) 3 - 4 - 6

D) 1 - 3 - 5

Adı:

Sayadı:

- CEVAP ANAHTARI -

3. SINIF HAFTALIK DEĞERLENDİRME 22. HAFTA

*Aşağıdaki kelimelerin eş ve zıt anlamlılarını yazalım.

EŞ ANLAMLILAR

ZİT ANLAMLILAR

yanıt- cevap

hafif- ağır

ulus- millet

çukur- tümsek

meslek- iş

üvey- öz

duyuru- ilan

tenha- kalabalık

zayıf- cılız

doğu- batı

*Aşağıdaki çarpma ve bölme işlemlerini yapalım.

$$\begin{array}{r} 37 \\ \times 28 \\ \hline 296 \\ 740 \\ \hline 1036 \end{array}$$

$$\begin{array}{r} 19 \\ \times 47 \\ \hline 133 \\ 760 \\ \hline 893 \end{array}$$

$$\begin{array}{r} 279 \\ \times 3 \\ \hline 837 \end{array}$$

$$\begin{array}{r} 98 \overline{) 9} \\ \underline{-9} \\ 08 \\ 10 \end{array}$$

$$\begin{array}{r} 74 \overline{) 5} \\ \underline{-5} \\ 24 \\ \underline{-20} \\ 4 \end{array}$$

$$\begin{array}{r} 80 \overline{) 4} \\ \underline{-80} \\ 00 \\ 20 \end{array}$$

*Üçer tane tekil, çoğul ve topluluk adı yazalım.

TEKİL ADLAR

kapı

makas

şapka

ÇOĞUL ADLAR

silgiler

masalar

sorular


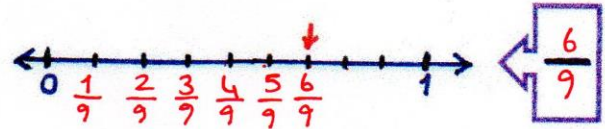
TOPLULUK ADLARI

küme

konvoy

aile

*Aşağıdaki sayı doğrularında ok işareti ile gösterilen kesirleri yazalım.



*Evde yaşayabileceğimiz kazaları önlemek için alabileceğimiz tedbirlerden 4 tanesini yazalım.

• Öğrencinin cevabı

• değerlendirilecektir.

• Kişiden kişiye cevaplar

• değişebilir.

*Işık ve ses kaynaklarına ikiye tane örnek yazalım.

Doğal Ses Kaynakları

Yağmur sesi

Rüzgar sesi

Doğal Işık Kaynakları

Güneş

Ateş böceği

Yapay Ses Kaynakları

Telefon sesi

Makine sesleri

Yapay Işık Kaynakları

Mum

Ampül

3. SINIF HAFTALIK DEĞERLENDİRME 22. HAFTA

1) Aşağıdaki cümlelerden hangisinde birden fazla eş sesli kelime vardır?

- A) Ben üç tane kalem aldım.
 B) Yarın akşam yüzmeye gideceğim.
 C) Dolaptaki tüm bardaklar kırıldı.

$\frac{3}{5}, \frac{2}{10}, \frac{1}{8}, \frac{1}{20}, \frac{10}{13}, \frac{1}{2}, \frac{5}{13}, \frac{3}{9}$

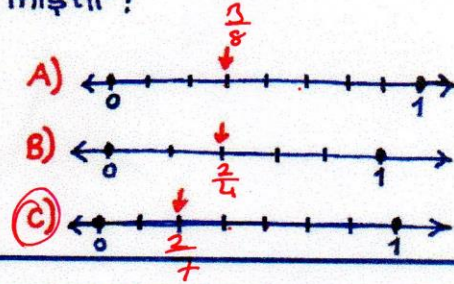
5) Yukarıdaki kesirlerden kaç tanesi birim kesirdir?

- A) 2 B) 3 C) 4

2) Aşağıdaki cümlelerden hangisinde hayal ürünü bir ifade vardır?

- A) Aynadaki görüntüsünü izledi.
 B) Gökten yıldız topladık.
 C) Gökyüzünü kara bulutlar kapladı.

6) $\frac{2}{7}$ kesrinin sayı doğrusunda gösterimi hangi seçenekte doğru verilmiştir?



3) Aşağıdaki bilgilerden hangisi doğrudur?

- A) Ses tek bir yöne doğru yayılır. X
 B) Her sesin bir kaynağı vardır.
 C) İnsan kulağı her sesi işitir. X

7) Ahmet pazardan 42 yumurta aldı. Yumurtaların $\frac{1}{6}$ 'i yolda kırıldı. Geriye kaç yumurta kalmıştır?

A) 7 B) 35 C) 36

$$\begin{array}{r} 42 \\ -42 \\ \hline 0 \end{array}$$

$$\begin{array}{r} 42 \\ -7 \\ \hline 35 \end{array}$$
 35 yumurta kaldı

4) Acil durumlarda arayağımız "Acil Çağrı Merkezi" numarası kaçtır?

- A) 110 B) 155
 C) 112

8) 6 düzine kalemin çeyreğinin 12 katı kaçtır?

A) 216 B) 228 C) 432

1 düzine = 12
 $6 \times 12 = 72$
 $72 \div 4 = 18 \Rightarrow$ çeyreği
 $18 \times 12 = 216$

"Dün akşam ablamla beraber parkta oyun oynadık."

1) Yukarıdaki cümlede iki heceden oluşan kaç tane kelime vardır?

- A) 3 B) 4 C) 5

2) Aşağıdaki eşleştirmelerden hangisi anlam ilişkisine göre diğerlerinden farklıdır?

- A) cimri - pinti - eş anlam
B) yüksek - alçak - zıt anlam
C) geniş - dar - zıt anlam

3) Aşağıdaki altı çizili kelimelerden hangisinin yazımı yanlıştır?

- A) Babam tiraktör aldı.
B) Çamaşır makinesi bozuldu.
C) Çizgi film izlemeyi seviyorum.

4) Aşağıdaki cümlelerden hangisinde noktalama işaretleriyle ilgili bir yanlışlık yapılmıştır?

- A) Off, çok yoruldu! ✓
B) Ayşe'ler bize gelecek.
C) Ankara'ya gidecek misin?

5) "Güzel konuşmak" anlamına gelen deyim hangisidir?

- A) Ağzı laf yapmak
B) Ağzı kulaklarına varmak
C) Ağzından bal damlamak

Yapılan iyiliğin karşılığı mutlaka alınır.




6) Yukarıda anlamı verilen atasözü hangisidir?

- A) İyilik eden iyilik bulur.
B) Sakla samanı gelir zamanı.
C) Gülü seven dikenine katlanır.

itfaiye • 155
polis • 110
jandarma • 156

Hepsi 112'de birleşti

7) Acil durum numaralarının doğru eşleştirmesi hangi seçenekte verilmiştir?

- A)  B)  C) 

8) Aşağıdaki verilen bilgilerden hangisi yanlıştır?

- A) İnternette tanımadığımız kişilerle konuşmamalıyız. ✓
B) Bilgisayarı sadece oyun için kullanırız.
C) Islak elle prize dokunmamalıyız. ✓

Adı:

Soyadı:

2. SINIF HAFTALIK DEĞERLENDİRME - 17

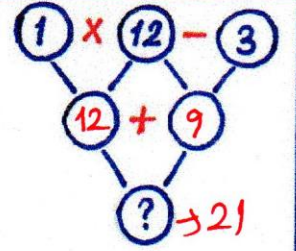
②

| | | | | |
|---|---|---|---|---|
| $\begin{array}{r} 38 \\ +16 \\ \hline 54 \end{array}$ | → | $\begin{array}{r} 40 \\ +20 \\ \hline 60 \end{array}$ | → | $\begin{array}{r} 60 \\ -54 \\ \hline 06 \end{array}$ |
| | | Tahmini | | Fark |

1) Yukarıdaki toplama işleminde gerçek sonuç ile tahmini sonuç arasındaki fark kaçtır?

- A) 4 B) 5 C) 6

5) Yandaki işlem ağında "?" yerine gelecek sayı kaç olur?



- A) 10 B) 21 C) 31

2) Yandaki tabloya göre $A+B$ kaç olur?

| | | | | |
|---|---|---|---|---|
| X | 2 | 3 | 4 | 5 |
| 6 | | | | |
| 7 | | A | | |
| 8 | | | B | |

- A) 50
B) 53
C) 57

$$\begin{array}{l} A = 3 \times 7 \\ A = 21 \end{array} \quad \begin{array}{l} B = 8 \times 4 \\ B = 32 \end{array}$$

$$A+B = 21+32 = 53$$

6) Bir çıkarma işleminde EKSİLEN 60, FARK 23 olduğuna göre ÇIKAN kaçtır?

- A) 37
B) 47
C) 93

$$\begin{array}{r} \text{Eksilen} \rightarrow 60 \rightarrow A \\ - \text{Çıkan} \\ \hline \text{FARK} \quad 23 \end{array}$$

$$60 - 23 = 37$$

→ 20'ye yuvarlanan en büyük sayı = ★
→ 50'ye yuvarlanan en küçük sayı = ■

3) Yukarıdaki verilere göre ■ - ★ kaç olur?

$$45 - 24 = 21 \quad \begin{array}{l} \star = 24 \\ \blacksquare = 45 \end{array}$$

- A) 21 B) 24 C) 27

4) 21'den başlayarak geriye doğru üçer sayma yaparken 5. saymada söylediğimiz sayının 4 katının 17 eksiği kaçtır?

- A) 13
B) 19
C) 21

$$\begin{array}{cccccc} 21 & 18 & 15 & 12 & 9 \\ 1. & 2. & 3. & 4. & 5. \text{ sayma} \end{array}$$

$$9 \times 4 = 36$$

$$36 - 17 = 19$$

$$\heartsuit \rightarrow 4 \times 4 = 16$$

$$\blacktriangle \rightarrow 5 \times 3 = 15$$

$$\bullet \rightarrow 9 \times 2 = 18$$

7) Yukarıdaki çarpma işlemlerinin sonuçlarının küçükten büyüğe sıralanışı hangisidir?

- A) $\bullet, \blacktriangle, \heartsuit$ B) $\blacktriangle, \heartsuit, \bullet$ C) $\blacktriangle, \bullet, \heartsuit$

8) Tanesi 6 TL olan defterlerden 3 tane, tanesi 4 TL olan kalemlerden 5 tane aldım. Satıcıya kaç tl ödemem gerekir?

- A) 36
B) 38
C) 40

$$\begin{array}{r} 6 \times 3 = 18 \\ 4 \times 5 = 20 \\ \hline 38 \end{array}$$