

TÜRKÇE

* Aşağıdaki cümlelerdeki altı çizili kelime gerçekte G, mecazsa M, terimse T yazalım.

- ☁ Kardeşim çok tatlı dillidir.
- ☁ Çocuğun burnu kanadı.
- ☁ Elindeki tabak birden kırıldı.
- ☁ Bugün derte üçgeni öğrendik.
- ☁ Arkadaşım zayıf not almış.
- ☁ Yoldaki taşları topladı.
- ☁ Paketleri taşımaktan kolum koptu.
- ☁ Dünkü maçta hiç gol yemedim.
- ☁ Ateşim yükselince serum taktık.

* Aşağıdaki kelimelerin mecaz ve gerçek anlamlarıyla cümle kuralım.

ağır

G→

M→

ince

G→

M→

MATEMATİK

* Aşağıdaki problemleri çözelim.

→ 4 arkadaşın 3 yıl önceki yaşları toplamı 73 ise 2 yıl sonraki yaşları toplamı kaç olur?

→ İki basamaklı, rakamları farklı en büyük tek sayı ile yüzlüğe yuvarlandığında 300 olan en küçük sayının çarpımı kaçtır?

→ Bir trende 12 vagon vardır. Her vagon ise 35 kişiliktir. Trende 73 kişilik boş yer olduğuna göre trende kaç yolcu vardır?

→ Faruk, televizyon borcunu 372 TL peşin, geriye kalanını ise 120 TL ödeyerek 8 ayda bitirecektir. Faruk televizyonu kaç TL'ye almıştır?

FEN BİLİMLERİ

* Karbonhidrat, yağ, protein, su ve vitaminlerden uygun olanları boşluklara yazalım.

* Vücudumuzu darbelere ve soğuğa karşı korur. →

* Kesik ve kırık gibi durumların iyileşmesinde görevlidir →

* Vücut direncini artırır, hastalıklara karşı korur →

* İnsan vücudunun %70'ini kaplar →

* Kemik ve dişlerin gelişmesinde, kanın pıhtılaşmasında görevlidir.

→

* Makarna, patates ve bulgurda bulunur. →

* Besinleri tüketirken nelere dikkat etmeliyiz?

.....

.....

.....


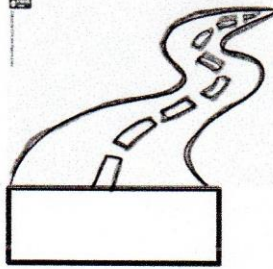



.....

.....

.....

SOSYAL BİLGİLER

* Aşağıdaki görselleri doğal ve beşeri olarak sınıflandırıp altına yazalım.



* Siyasi ve fiziki harita tanımları ile isimlerini eşleştirelim, üstüne yazalım.

Dağ, ova, deniz, okyanus, plato gibi yeryüzü şekilleri ve bunların yüksekliği ve derinliğini gösteren haritadır.

Ülke, il, ilçe, köy gibi yerleşim birimlerinin sınırlarını gösteren haritalardır.

TÜRKÇE

*Aşağıda verilen deyimlerle anlamlarını eşleştirelim.

Taraf tutmak

1

Üstüne gelmek

2

Ekmeğini taştan çıkarmak

3

Kulak arkası etmek

4

Burnu büyümek

5

Yan çizmek

6

Ayak bağı olmak

7

 Kendini üstün görmek.

 Bir işin yapılmasına engel olmak.

 Bir tarafı desteklemek.

 Bir şey yapılırken çıkagelmek.

 Görevden kaçmak.

 Ne yapıp edip geçimini sağlamak.

 Önemsememek.

*Aşağıdaki verilen atasözünün anlamını araştırıp yazalım.

Meyve veren ağaç taşlanır.



MATEMATİK

*Aşağıdaki bölme işlemlerini yapalım.

$$\begin{array}{r} 87 \overline{)5} \\ \end{array}$$

$$\begin{array}{r} 96 \overline{)3} \\ \end{array}$$

$$\begin{array}{r} 129 \overline{)7} \\ \end{array}$$

$$\begin{array}{r} 345 \overline{)15} \\ \end{array}$$

$$\begin{array}{r} 1203 \overline{)9} \\ \end{array}$$

$$\begin{array}{r} 1634 \overline{)5} \\ \end{array}$$

$$\begin{array}{r} 652 \overline{)12} \\ \end{array}$$

$$\begin{array}{r} 804 \overline{)36} \\ \end{array}$$

$$\begin{array}{r} 930 \overline{)30} \\ \end{array}$$

$$\begin{array}{r} 205 \overline{)10} \\ \end{array}$$

$$\begin{array}{r} 2600 \overline{)5} \\ \end{array}$$

$$\begin{array}{r} 264 \overline{)42} \\ \end{array}$$

*Aşağıdaki bölme işlemlerini kısa yoldan yapalım.

$$4100 \div 10 =$$

$$5000 \div 1000 =$$

$$2800 \div 100 =$$

$$49000 \div 100 =$$

$$9100 \div 100 =$$

$$1380 \div 10 =$$

$$200 \div 10 =$$

$$62000 \div 100 =$$

$$13000 \div 1000 =$$

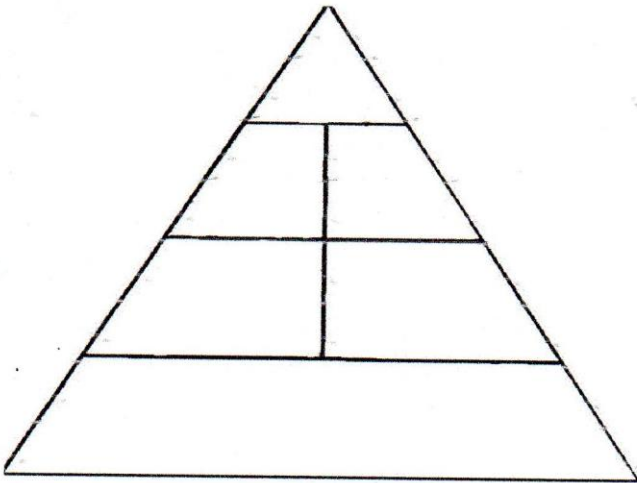
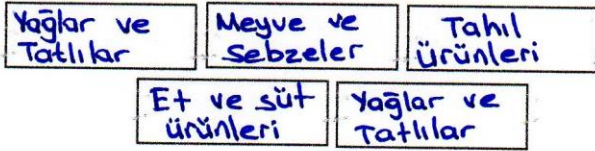
$$800 \div 10 =$$

FEN BİLİMLERİ

* Besinleri inceleyelim. Besinlerin içerğine uygun başlık atalım.



!!
* Besin piramidi → Sağlıklı beslenmek için hangi besinlerden ne kadar yememiz gerektiğini anlatır.



* Boş besin piramidini uygun besinlerin adlarını yazarak dolduralım.

SOSYAL BİLGİLER

* Aşağıdaki soruları cevaplayalım.

- Mustafa Kemal'in katıldığı ilk savaş →
- Kurtuluş Savaşı'nda İzmir'de Yunanlılara ilk kurşunu kim sıkmıştır? →
- Mustafa Kemal'in ilk görev yeri neresidir? →
- I. Dünya Savaşı sonucunda hangi antlaşma imzalanmıştır? →
- Mustafa Kemal'e Çanakkale Cephesi'nde hangi ünvan verildi? →
- Ermeniler ile savaştığımız cephe hangisidir? →

* 1. Dünya Savaşı'na katılan İttifak Devletleri'ni pembeye, İtilaf Devletlerini yeşile boyayalım.



TÜRKÇE

*Aşağıdaki boşluklara "de" ve "ki" yi ayrı ve bitişik yazımına dikkat ederek yazalım.

- (de) Sen..... mi geleceksin?
 (ki) Balkonda..... saksı düşmüş
 (ki) Bir baktım..... kaybolmuş.
 (da) Okul..... futbol oynadık.
 (de) Kalemim ev..... kalmış.
 (ki) San..... bunu duymuştum.
 (ki) Ahmet'in..... daha güzel olmuş.
 (da) Duvar..... leke gördüm.
 (da) Kitap..... okuyalım mı?

*Aşağıdakilerden nesnel yargı olanlara N, öznel yargı olanlara Ö yazalım.

Sınıfın kapısı yeşildir.

Maç izlemek çok keyiflidir.

Arabamız 58 bin km'dir.

En lezzetli meyve çilektir.

Yürümeyi çok seviyorum.

Portakalda C vitamini vardır.

MATEMATİK

*Aşağıdaki bölme işlemlerini yapalım ve doğruluğunu kontrol edelim.

$$\begin{array}{r} 218 \overline{)5} \\ \end{array}$$

Kontrol

$$\begin{array}{r} 806 \overline{)7} \\ \end{array}$$

Kontrol

$$\begin{array}{r} 418 \overline{)8} \\ \end{array}$$

Kontrol

$$\begin{array}{r} 420 \overline{)14} \\ \end{array}$$

Kontrol

$$\begin{array}{r} 635 \overline{)20} \\ \end{array}$$

Kontrol

$$\begin{array}{r} 162 \overline{)36} \\ \end{array}$$

Kontrol

*Aşağıdaki bölme işlemlerinde bölen ve bölünenleri en yakın onluğa yuvarlayarak tahmini sonuçları bulalım.

Gerçek Sonuç	Tahmini Sonuç	Fark
$\begin{array}{r} 278 \overline{)13} \\ \end{array}$		

Gerçek Sonuç	Tahmini Sonuç	Fark
$\begin{array}{r} 598 \overline{)26} \\ \end{array}$		

FEN BİLİMLERİ

* Sağlıklı bir öğlen yemeği menüsü oluşturalım.


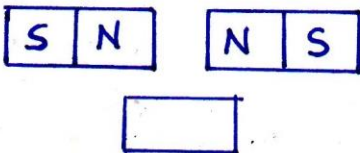
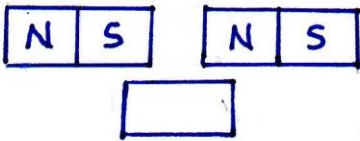
Menü

•
•
•
•
•

* Aşağıdaki besinlerin içeriğinde karbonhidrat olanlara "x", protein olanlara "v" atalım.

	süt	bal	
	peynir	patates	
	pasta	mercimek	
	badem	tavuk	
	kuru fasulye	arpa	
	mısır	yumurta	
	et	muz	
	ekmek	nohut	

* Aşağıdaki mıknatısların itme-çekme durumuna göre altlarına yazalım.



SOSYAL BİLGİLER

* Acil durum çantasında hangi malzemeler olmalıdır. Kutulara yazalım.



[]	[]	[]
[]	[]	[]
[]	[]	[]
[]	[]	[]

* Mustafa Kemal Atatürk'ün okuduğu okulların adlarını yazalım.

- 1-.....
- 2-.....
- 3-.....
- 4-.....
- 5-.....
- 6-.....
- 7-.....

TÜRKÇE

*Aşağıdaki devrik cümleleri, kurallı cümle haline getirelim.

Kalemini bana verdi Yiğit.



Tabak düştü bir anda.



Çiçek diktik boş saksılara.



Seviyorum film izlemeyi.



Ellerimi yıkarım yemekten önce



*Aşağıdaki verilen cümleler olumlu ise yeşile, olumsuz ise kırmızıya boyayalım.

Yağmur çok hızlı yağıyor.

Öğretmen çok ödev vermedi.

Yere düşünce kolum acıdı.

Bahçede saklambaç oynadık

Yarın köye gideceğim.

Bizim arabamız yok

MATEMATİK

*Aşağıdaki bölme işlemi ile ilgili problemleri çözelim.

→ Yandaki bölme işleminde * $\begin{array}{r} 17 \\ 35 \end{array}$
* yerine gelecek sayı en fazla kaç olur?


→ Bir çiftlikteki ineklerin ayak sayısı 328, tavukların ayak sayısı 126 olduğuna göre çiftlikte kaç hayvan vardır?

13 tanesi 390 tl olan karpuzlardan 8 tane alan Yasin satıcıya kaç para öder?

Tusem, 168 sayfalık kitabın yarısını günde 7 sayfa okuyarak, diğer yarısını ise günde 4 sayfa okuyarak bitirmiş. Kitap toplam kaç günde bitmiştir?

FEN BİLİMLERİ

* Mıknatısın çektiği maddeleri mıknatısın altındaki kutuya yazalım.



ÇEKİLEN
MADELER

* silgi

* tahta kaşık

* çivi

* iğne

* alüminyum

* defter

* metal para

* raptiye

* ataş

* çelik tencere

* Aşağıdaki ifadelerden doğru olanların başına "D", yanlış olanların başına "Y" yazalım.

() Bilgisayarların yapımında mıknatıs kullanılır.

() Astım hastalığının nedenleri arasında sigara kullanımı vardır.

() Potaya atılan top için itme kuvveti uygulanır.

() Mıknatısın zıt kutupları birini iter.

() Mıknatısın zıt kutupları birini çeker.

() Cam saydam maddedir.

() Tahta opak maddedir.

SOSYAL BİLGİLER

* Türkiye siyasi haritasını inceleyerek aşağıdaki soruları cevaplayalım.

→ Türkiye'nin güneyindeki denizin adı nedir? ⇒

→ Türkiye'de kaç tane il vardır? ⇒

→ Türkiye ile sınır komşusu olan ülkeler hangileridir? ⇒

→ Yaşadığınız şehrin adı ⇒

* Aşağıdaki kelimelerin anlamlarını karşlarına yazalım.

paleontoloji =

meteorolog =

paleontolog =

meteoroloji =

* Doğal afetlerin adlarını yazalım.

1.

2.

3.

4.

5.

6.

TÜRKÇE

* Tatilde okuduğunuz bir tane hikaye kitabı ile ilgili aşağıdaki soruları cevaplayalım.

Kitabın adı →

Kahramanlar →

Yer →

Zaman →

Olay →

→ Kitapta aklınızda kalan kısımları kısaca yazalım.

→

.....

.....

.....

.....

.....

.....

.....

.....

.....

MATEMATİK

* Aşağıdaki matematiksel ifadelerdeki eşitliği sağlamak için ? yerine gelecek sayıları bulalım.

$$840 \div 30 = 4x ?$$

$$12 \times 5 = 600 \div ?$$

$$105 + ? = 600 - 394$$

$$38 \times 25 = 598 + ?$$

$$30 \times 8 = 5x ?$$

$$? \times 3 = 135 \div 9$$

* Hangi sayının 8 katı, 16 sayısının 15 katına eşittir?

* Hangi sayının çeyreği 18'dir?

FEN BİLİMLERİ

* Aşağıdaki kelimeleri tanıma uygun yerlere yerleştirelim.

net kütle

hacim

dara

* Maddeyi içine koyacağımız kabın kütesine denir.

* Brüt kütlede dara çıkartarak bulunan sonuca denir.

* Maddelerin boşlukta kapladığı yere denir.

* Aşağıdaki kütleleri istenen birime dönüştürelim.

$$\square 1 \text{ kg} = \dots\dots\dots \text{g}$$

$$\square 12000 \text{ g} = \dots\dots\dots \text{kg}$$

$$\square 35 \text{ kg} = \dots\dots\dots \text{g}$$

* Aşağıdaki boşlukları dolduralım.

$$1 \text{ L} = \dots\dots\dots \text{mL}$$

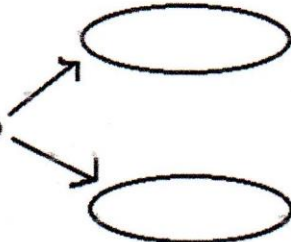
Net kütle

=

[]

- []

Hacim ölçü birimleri



SOSYAL BİLGİLER

• fırın

• bilgisayar

• helikopter

• radyo

• hızlı tren

• metro

• uçak

• buluşık makinesi

• tablet

• ütü

• telefon

• ateş ölçer

• gemi

• solunum cihazı

• robot süpürge

• röntgen cihazı

• akıllı tahta

• derin dondurucu

* Yukarıda verilen teknolojik aletleri kullandıkları alanın altına yazalım.

Sağlık

Eğitim

İletişim

Beslenme

İletişim

Ulaşım

* Teknolojinin faydalarından 5 tanesini yazalım.

1.
2.
3.
4.
5.