

### 3. SINIF SENE SONU DENEME SINAVI

#### TÜRKÇE

(zıt)

cimri - cömert

1) Yukarıdaki kelimeler arasındaki anlam ilişkisi hangi seçenekte vardır?

- A) kaygı - endişe eş  
B) tutsak - özgür zıt  
C) yitirmek - kaybetmek eş

2) Aşağıdaki deyimlerden hangisi "geri dönmeyecek bir iş yapmak" anlamında kullanılır?

- A) Kulak vermek  
B) Gözü yolda kalmak  
C) Ok yaydan çıkmak

3) "Öfke ile kalkan zararlar oturur." atasözünün anlamı aşağıdakilerden hangisidir?

- A) Başkasının başına gelen bir şey bizim başımıza da gelebilir.  
B) Aniden sinirlenen insanlar en çok kendilerine zarar verir.  
C) İşlerimizi zamanında bitirmeliyiz, ertelememeliyiz.

makina	sürpriz
filim	palyanço
kral	şarz

makine  
film  
palyanço  
şarz

4) Yukarıdaki kelimelerden kaç tanesinin yazımında yanlışlık yapılmıştır?

- A) 3  
B) 4  
C) 5

il-ko-kul	se-miz-o-tu
kör-e-be	ak-şa-müs-tü
ya-yı-ne-vi	gün-ay-dın
	gü-nay-dın

il-ko-kul  
kör-e-be  
ya-yı-ne-vi  
se-miz-o-tu  
ak-şa-müs-tü  
gün-ay-dın  
gü-nay-dın

5) Yukarıdaki kelimelerden hangileri hecelerine doğru ayrılmıştır?

- A) il-ko-kul, kör-e-be, ya-yı-ne-vi  
B) se-miz-o-tu, ak-şa-müs-tü, gün-ay-dın  
C) se-miz-o-tu, ak-şa-müs-tü, gün-ay-dın

Dün gittiğimiz festivalde selfie çekildik.  
şenlik öz çekim

6) Yukarıdaki cümledeki altı çizili kelimelerin Türkçe karşılıkları hangi seçenekte doğru verilmiştir?

- A) şenlik - öz çekim  
B) etkinlik - gösteri  
C) sunucu - resim

### 3. SINIF SENE SONU DENEME SINAVI

" Sabah okula gelirken yolda aniden düştüm ve dizim biraz yaralandı. "

7) Yukarıdaki cümlede kaç tane eş sesli kelime vardır?

- A) 2      B) 3      C) 4

masa, mendil, mikser, meyve

8) Yukarıdaki kelimeleri sözlük sırasına göre sıraladığımızda hangi seçenek doğru olur?

- A) masa, mikser, mendil, meyve  
B) meyve, mikser, masa, mendil  
C) masa, mendil, meyve, mikser

9) Aşağıdaki cümlelerden hangisi olumlu cümledir?

- A) Bugün fazla yorulmadım. *gerçekleşmemiş*  
B) Masadaki bardak bir anda yere düştü.  
C) Sınavda fazla hata yapmadım. *gerçekleşmemiş*

10) Hangi seçenekte verilen kelimelerin tek başına anlamı yoktur?

- A) Çünkü, fakat, ama  
B) oysa, bulut, yol  
C) ile, lakin, sepet

11) Aşağıdaki cümlelerden hangisinde hayal ürünü bir ifade kullanılmıştır?

- A) Kedi kuşu yakalamak için ağaca tırmandı.  
B) Dün akşam yıldızlar bana şarkı söyledi.  
C) Siyah köpek suda yüzüyordu.

12) Aşağıdaki cümlelerden hangisinde yazım ve noktalama yanlışı yapılmamıştır?

- A) Kuşumuz Maviş'in yemi bitti.  
B) Ayhanların maçı mı var? maçı mı  
C) Atatürk İlkokulunda okuyorum.

Eyvah (!) Misafirler saat 14(.)30' da mı gelecek(?)

13) Yukarıdaki cümlede ayraçla "( )" gösterilen yerlere sırasıyla hangi noktalama işaretleri gelmelidir?

- A) (!) (.) (?)  
B) (.) (.) (!)  
C) (!) (.) (?)

### 3. SINIF SENE SONU DENEME SINAVI

#### MATEMATİK

$$\begin{array}{r} 5912 \\ 602 \\ -4ABC7 \\ \hline 135 \end{array}$$

$$\begin{array}{l} A = 4 \\ B = 6 \\ C = 7 \\ \hline 17 \end{array}$$

1) Yukarıdaki çıkarma işlemine göre A+B+C kaç olur?

- A) 16    **B) 17**    C) 18

$$\begin{array}{r} \text{En büyük} \rightarrow \begin{array}{r} 732 \\ 203 \\ \hline 529 \end{array} \\ \text{En küçük} \rightarrow \end{array}$$

2) " 2, 3, 0, 7 " rakamlarıyla yazılabilecek üç basamaklı rakamları farklı en büyük sayı ile rakamları farklı en küçük sayının farkı kaçtır?

- A) 502    **B) 529**    C) 531

$$\begin{array}{r} 1280 \\ \times 8 \\ \hline 961 \end{array}$$
$$\begin{array}{r} 964 \\ -824 \\ \hline 161 \\ -12 \\ \hline 00 \end{array}$$

3) Burcu teyze 12 litrelik zeytin yağı tenekelerinden 8 tane almıştır. Daha sonra aldığı yağları 4 litrelik şişelere doldurmuştur. Burcu teyze kaç tane şişe kullanmıştır?

- A) 5  
B) 16  
**C) 24**

$$\begin{array}{r} 484 \\ -412 \\ \hline 081 \\ +21 \\ \hline 33 \end{array}$$

ASLI: Benim yaşım 48 sayısının çeyreğinin 21 fazlasıdır. **33**

KADIR: Benim yaşım 16 sayısının 3 katının 13 eksigiştir. **35**

SUDE: Benim yaşım iki basamaklı en büyük çift sayının 66 eksigiştir. **32**

4) Yukarıdaki kişilerin yaşlarını küçükten büyüğe doğru sıralarsak hangi seçenek doğru olur?

- A) Sude < Kadir < Aslı  
B) Kadir < Aslı < Sude  
**C) Sude < Aslı < Kadir**

$$\begin{array}{r} 712 \\ 182 \\ -126 \\ \hline 056 \end{array}$$

$$125 < A < 183$$

**60**

5) A yerine yazılabilecek en büyük sayı ile en küçük sayının farkının en yakın onluğa yuvarlanmış hali hangi seçenekte verilmiştir?

- A) 40    B) 50    **C) 60**

$$4 \text{ seyrek} = 1 \text{ bütün}$$
$$\begin{array}{r} 12 \\ \times 4 \\ \hline 48 \end{array}$$
$$\begin{array}{r} 48 \\ \times 5 \\ \hline 240 \end{array}$$
$$\begin{array}{r} 240 \\ -200 \\ \hline 040 \end{array}$$

$$2 \text{ m} = 200 \text{ cm}$$

6) Çeyreği 12 cm olan çubuklardan 5 tanesini uç uca eklersek 2 m'den ne kadar daha uzun olur?

- A) 40 cm**  
B) 50 cm  
C) 80 cm

### 3. SINIF SENE SONU DENEME SINAVI

(D) Kare prizma ve küpün köşe, yüz ve ayrıt sayıları eşittir.

(Y) Koninin 2 yüzü ve 1 köşesi vardır. *köşesi yoktur*

(Y) Üçgen prizmanın 12 ayrıtı vardır. *9*

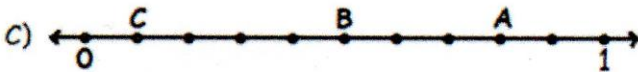

(D) Silindirin 3 tane yüzü vardır, ayrıtı ve köşesi yoktur.

7) Yukarıda geometrik cisimlerle ilgili verilen bilgilerden doğru olanlara D, yanlış olanlara Y yazarsak hangi seçenek doğru olur?

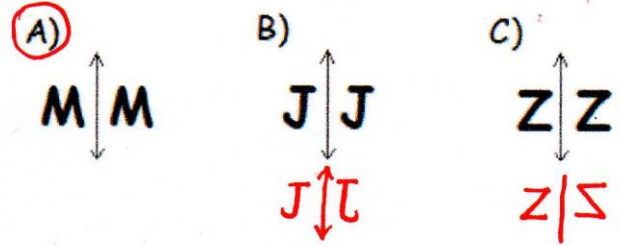
- (A) (D) (Y) (Y) (D)  
 B) (D) (Y) (D) (Y)  
 C) (D) (Y) (Y)

$$A = \frac{9}{11} \quad B = \frac{6}{11} \quad C = \frac{1}{11}$$

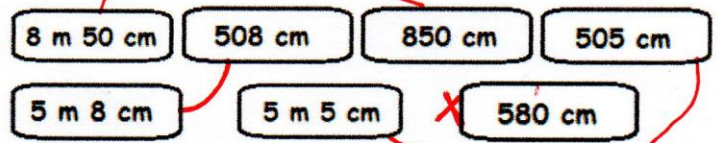
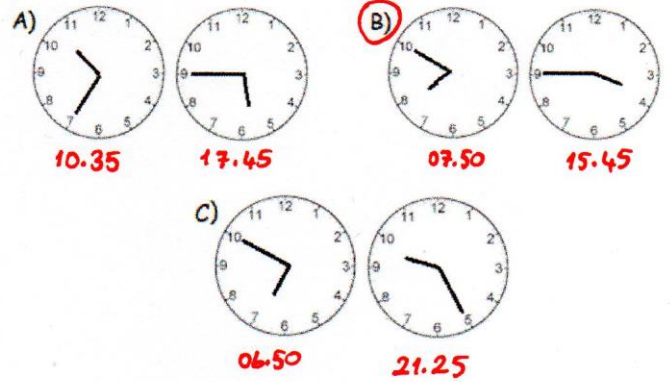
8) Yukarıdaki verilen kesirler hangi sayı doğrusunda doğru verilmiştir?



9) Aşağıdaki harflerden hangisinin simetriği doğru verilmiştir?



10) Ahmet saat 07.50'de okula gidiyor. Saat 15.45'te okuldan çıkıyor. Ahmet'in gidiş ve çıkış saatleri hangi seçenekte doğru verilmiştir.



11) Yukarıdaki uzunluk ölçülerinden birbirine eşit olanları eşleştirdiğimizde hangisi dışarda kalır?

- A) 850 cm B) 508 cm (C) 580 cm

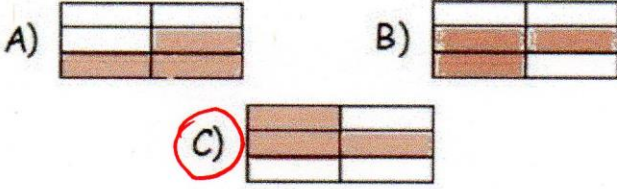
# 3. SINIF SENE SONU DENEME SINAVI

## FEN BİLİMLERİ


<del>üreme</del>	koşma
<del>solunum</del>	<del>boşaltım</del>
yürüme	düşünme

Canlılar  
\* İnsan  
\* Hayvan  
\* Bitki

1) Yukarıdaki tabloda canlılara ait ortak özellikleri boyarsak hangi seçenek doğru olur?



Şehir El.




1

Pil



2

Akü



3

2) Yukarıdaki resimlerdeki araçları çalıştıran enerji kaynakları aşağıdaki seçeneklerden hangisinde sırasıyla doğru şekilde verilmiştir?

- A) akü - pil - şehir elektriği  
B) şehir elektriği - pil - akü  
C) batarya - akü - pil

Göz

"Yol kenarındaki yemyeşil ıhlamur ağaçlarından mis kokular yayılıyordu."

Burun

3) Yukarıdaki cümlede hangi duyu organlarından bahsedilmiştir?  
A) göz-kulak  
B) göz-burun  
C) deri-burun

4) Aşağıdaki verilen bilgilerden hangisi yanlıştır?

- A) Hareket eden bir araca hareketinin tersi yönde kuvvet uygulanırsa araç hızlanır. *Yavaşlar*  
B) Camı açarken çekme kuvveti uygularız. ✓  
C) Duvara çarpan top yön değiştirme hareketi yapar. ✓

*Katı maddeler*  
\* Belirli bir şekli vardır.  
\* Buldukları kabın şeklini almazlar.  
\* Sıkıştırılamazlar.

5) Yukarıdaki özellikler maddenin hangi haline aittir?

- A) katı B) sıvı C) gaz

*Yapay*  
1-mum

*Doğal*  
2-yıldız

*Yapay*  
3-el feneri

*Yapay*  
4-ampul

*Doğal*  
5-güneş

*Doğal*  
6-şimşek

6) Yukarıdaki verilen ışık kaynaklarından hangileri yapay ışık kaynaklarıdır?

- A) 1, 3, 6  
B) 2, 5, 6  
C) 1, 3, 4

### 3. SINIF SENE SONU DENEME SINAVI

#### HAYAT BİLGİSİ



Bisiklet  
girmez



Yaya  
geçidi

1) Yukarıdaki trafik işaretlerinin anlamları hangi seçenekte doğru verilmiştir?

- A) Bisiklet girmez - Okul geçidi  
B) Bisiklet yolu - Yaya geçidi  
C) Bisiklet girmez - Yaya geçidi

2) Güneşin doğduğu yöne sağ kolumuzu uzatırsak aşağıdaki seçeneklerden hangisi doğru olur?

Solumuz    Önümüz    Arkamız

- A) Kuzey - Güney - Doğu  
B) Batı - Kuzey - Güney  
C) Batı - Güney - Kuzey

"Nobel kimya ödülünü kazanmıştır.  
Dünyaca bilinen Türk bilim adamıdır."

3) Yukarıda bahsedilen bilim adamı kimdir?

- A) Aziz Sancar  
B) Nuri Demirağ → Demiryolu  
C) Vecihi Hürkuş - Uçak

4) Hangi seçenekte verilen örneklerin tamamı yapay çevreye örnektir?

- A) Dağlar, peri bacaları, ormanlar  
B) Köprüler, barajlar, binalar  
C) Denizler, yollar, parklar

5) Hangi seçenekte yönetim birimleri ve yönetici eşleştirmeleri doğru yapılmıştır?

	Kaymakam	Muhtar	Vali
	İLCE	KÖY	İL
A)	muhtar	vali	kaymakam
B)	kaymakam	vali	muhtar
C)	kaymakam	muhtar	vali

Önüne çıkan engeller karşısında asla pes etmezdi. → Kararlı

Düşüncelerini yeri ve zamanı geldikçe çekinmeden söylerdi. → açık sözlü

6) Yukarıda Atatürk'ün kişilik özelliklerinden hangilerinden bahsedilmiştir?

- A) Alçak gönüllü, zeki  
B) Kararlı, açık sözlü  
C) İleri görüşlü, akılcı

## CEVAP ANAHTARI

TÜRKÇE	MATEMATİK	FEN BİLİMLERİ	HAYAT BİLGİSİ
1- (A) (B) (C)	1- (A) (B) (C)	1- (A) (B) (C)	1- (A) (B) (C)
2- (A) (B) (C)	2- (A) (B) (C)	2- (A) (B) (C)	2- (A) (B) (C)
3- (A) (B) (C)	3- (A) (B) (C)	3- (A) (B) (C)	3- (A) (B) (C)
4- (A) (B) (C)	4- (A) (B) (C)	4- (A) (B) (C)	4- (A) (B) (C)
5- (A) (B) (C)	5- (A) (B) (C)	5- (A) (B) (C)	5- (A) (B) (C)
6- (A) (B) (C)	6- (A) (B) (C)	6- (A) (B) (C)	6- (A) (B) (C)
7- (A) (B) (C)	7- (A) (B) (C)	7- (A) (B) (C)	7- (A) (B) (C)
8- (A) (B) (C)	8- (A) (B) (C)	8- (A) (B) (C)	8- (A) (B) (C)
9- (A) (B) (C)	9- (A) (B) (C)	9- (A) (B) (C)	9- (A) (B) (C)
10- (A) (B) (C)	10- (A) (B) (C)	10- (A) (B) (C)	10- (A) (B) (C)
11- (A) (B) (C)	11- (A) (B) (C)	11- (A) (B) (C)	11- (A) (B) (C)
12- (A) (B) (C)	12- (A) (B) (C)	12- (A) (B) (C)	12- (A) (B) (C)
13- (A) (B) (C)	13- (A) (B) (C)	13- (A) (B) (C)	13- (A) (B) (C)
14- (A) (B) (C)	14- (A) (B) (C)	14- (A) (B) (C)	14- (A) (B) (C)
15- (A) (B) (C)	15- (A) (B) (C)	15- (A) (B) (C)	15- (A) (B) (C)
DOĞRU:	DOĞRU:	DOĞRU:	DOĞRU:
YANLIŞ:	YANLIŞ:	YANLIŞ:	YANLIŞ:

KATILAN ÖĞRENCİ SAYISI

BAŞARI SIRASI

TOPLAM

DOĞRU:

YANLIŞ: