

Adı:

Soyadı:

3. SINIF HAFTALIK DEĞERLENDİRME 28. HAFTA

* Aşağıdaki kelimeler satır sonunda doğru ayrılmışsa "D" yanlış ayrılmışsa "Y" yazalım.

1-
sıtıcı

yen-
ilik

be-
zelye

kork-
tum

uç-
urtma

Trab-
zon

* Aşağıdaki verilen kilogram-gram çevirmelerini yapalım.

$$3 \text{ kg} = \dots\dots \text{ g} \quad 7 \text{ kg} = \dots\dots \text{ g}$$

$$5000 \text{ g} = \dots \text{ kg} \quad 1000 \text{ g} = \dots\dots \text{ kg}$$

$$4 \text{ kg} = \dots\dots \text{ tane } 500 \text{ g}$$

$$3 \text{ kg} = \dots\dots \text{ tane } 250 \text{ g}$$

$$20 \text{ çeyrek kg} = \dots\dots \text{ kg}$$

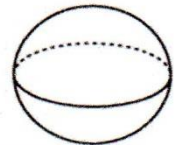
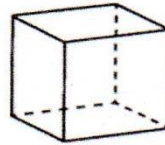
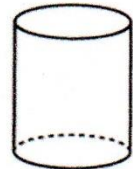
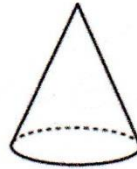
* Aşağıdaki eş sesli kelimeleri farklı anlamlarıyla cümle içersinde kullanalım.

ben

yol

bin

* Geometrik cisimlerin isimlerini yazalım.



* Doğru olanlara "D", yanlış olanlara "Y" yazalım.

Parklar ortak kullanım alanlarından değildir.

Sınıf tahtamızı istediğimiz gibi karalayabiliriz.

Bankların üzerine ayakkabılarımızla basabiliriz.

Diş fırçası bir kişisel eşyadır.

- Dağlar
- Yollar
- Peri bacaları
- Köprüler
- Kutuplar
- Limanlar

* Yukarıdaki verilenleri aşağıdaki uygun alana yazalım.

DOĞAL ÇEVRE

YAPAY ÇEVRE

→

→

→

→

→

→

1) papatya, fare, parlak, istek



Yukarıdaki kelimeleri sözlük sırasına göre sıralarsak hangi seçenek doğrudur?

- A) \star , \square , \circ , Δ
 B) \square , \star , Δ , \circ
 C) \square , \star , \circ , Δ

5)

- * 2 yüzü vardır.
 * 1 yüzeyi dairedir.
 * Köşesi ve ayrıtı yoktur.

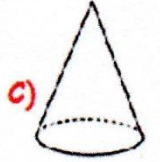
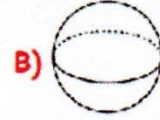
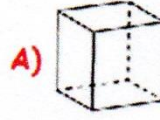
Yukarıda özellikleri verilen geometrik cisim aşağıdakilerden hangisidir?

- A) silindir
 B) koni
 C) küre

2) "Yurdumu çok seviyorum" cümlesinde altı çizili kelimenin eş anlamlısı aşağıdakilerden hangisidir?

- A) halk
 B) millet
 C) vatan

6) Aşağıdaki geometrik cisimlerden hangisinin yüzü diğerlerinden daha azdır?



3) Aşağıdaki cümlelerde altı çizili kelimelerden hangisi sözcüğün anlamını değiştiren bir ek almamıştır?

- A) Aldığım limonlar ekşi çıktı.
 B) Kitaplığımı maviye boyadım.
 C) Masaya tuzluk koymayı unuttum.

7) Bir manav 45 kg elmanın $\frac{3}{5}$ 'ünü satmıştır. Geriye kaç kilogram elma kalmıştır?

- A) 18
 B) 27
 C) 71

4) Köy ve mahallenin yasalarla belirlenmiş işlerini yürütmek için seçilen kişi aşağıdakilerden hangisidir?

- A) vali
 B) kaymakam
 C) muhtar

8) Pamukkale travertenleri hangi ilimizdedir?

- A) Nevşehir
 B) Şanlıurfa
 C) Denizli