

### 3. SINIF NİSAN AYI MİNİ DENEME SINAVI

#### TÜRKÇE

##### VAR

Ağacı kıskanırim İmrenirim arıya,  
Yemiş yüklü dalı var; Petek petek balı var;  
Bahar olsun, güz olsun, Koyduğu çiçeklerin  
Ne güzel masalı var. Pembesi var, alı var...

Cahit Sıtkı TARANCI

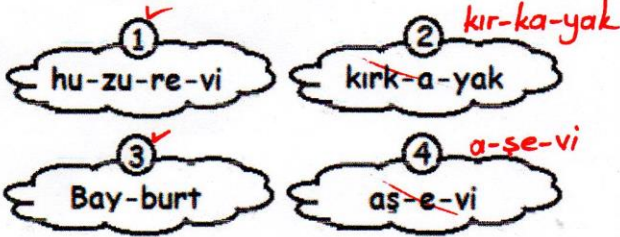
1. ve 2. Soruları yukarıdaki şiire göre cevaplayınız.

1) Şiire göre masalı olan varlık hangisidir?

- A) Bahar B) Ağaç C) Dal

2) Şairin şiirde imrendiği kimdir?

- A) çiçek B) ağaç C) arı



3) Yukarıdaki kelimelerden hangileri hecelerine yanlış ayrılmıştır?

- A) 1 ve 2 B) 2 ve 4 C) 3 ve 4

4) Aşağıdaki kelimelerden hangisi satır sonunda doğru ayrılmıştır?

- A) emi-  
nönü B) u-  
zaklık C) sak-  
al
- Tek harf kalamaz so-kak

5) Aşağıdaki cümlelerin hangisinde birden fazla eş sesli kelime vardır?

- A) Bir bardak ayran içtim.  
B) Annem pazardan meyve aldı.  
C) Babamın anlattığına çok güldüm.

Yaşasın! Mahallemize Dr. Hakan  
mı gelecek?

6) Yukarıdaki cümlede ayraçla "( )" gösterilen yerlere sırasıyla hangi noktalama işaretleri gelmelidir?

- A) (!) (,) (?) B) (,) (.) (!)  
C) (!) (.) (?)

- \* rüya \* endişe \* bulut  
\* sıcak \* ayna \* yardımsever

7) Yukarıdaki soyut adların ilk harfleri ile aşağıdaki kelimelerden hangisi yazılabilir?

- A) say B) bay C) yer

### 3. SINIF NİSAN AYI MİNİ DENEME SINAVI

8) Aşağıdaki kelimelerin arasındaki anlam ilişkisi hangi seçenekte diğerlerinden farklıdır?

- A) siyah - beyaz **zıt**  
B) kuru - ıslak **zıt**  
C) yel - rüzgar **es**

" Selma'nın yaptıklarına annesi göz yumuyordu. "

9) Yukarıdaki cümledeki altı çizili deyim anlamı aşağıdakilerden hangisidir?

- A) Çok kızmak x  
B) Dikkatli olmak x  
C) Görmezden gelmek

10) Aşağıdaki cümlelerden hangisi hem olumsuz hem de devrik bir cümledir?




- A) Bugün gelmeyecek Tarık okula.  
B) Mert meyve suyunu içmedi.  
C) Bütün bardaklar kırıldı mutfakta.

11) Aşağıdaki cümlelerin hangisinde yazım yanlışı yapılmamıştır?

- A) Ablam 23 <sup>S</sup>ubat 2014 yılında doğdu.  
B) **Kedimiz** Şila iki yaşındadır.  
C) Ben ramazan bayramında köye gittim.  
**R B**

<del>ofis - işyeri</del>	viraj - çukur	<del>dekor - süs</del>
<del>exit - çıkış</del>	full - eksik	start - bitiş

12) Yukarıdaki tabloda dilimize girmiş yabancı kelimelerle türkçe karşılıkları eşleştirilmiştir. Doğru eşleştirilen kutuları boyarsak hangi seçenek doğru olur?

- A)  B)   
C) 



13) Yukarıdaki verilen kelimelerden kaç tanesi satır sonunda bölünmez?

- A) 3 B) 4 C) 5

<sup>1</sup> merdiven	<sup>3</sup> mobilya	<sup>2</sup> minder
--------------------------	-------------------------	------------------------

14) Yukarıdaki kelimeleri alfabetik sıraya göre sıralarsak hangi seçenek doğru olur?

- A) minder-mobilya-merdiven  
B) merdiven-mobilya-minder  
C) merdiven-minder-mobilya

**TÜRKÇE TESTİ BİTMİŞTİR**

### 3. SINIF NİSAN AYI MİNİ DENEME SINAVI

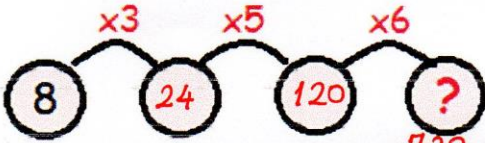
#### MATEMATİK

- 1) Aşağıdaki çarpma işlemlerinden hangisinin sonucu en büyüktür?

$$\begin{array}{r} \text{A) } 26 \\ \times 23 \\ \hline 78 \\ + 52 \\ \hline 598 \end{array}$$

$$\begin{array}{r} \text{B) } 35 \\ \times 14 \\ \hline 140 \\ + 35 \\ \hline 490 \end{array}$$

$$\begin{array}{r} \text{C) } 27 \\ \times 21 \\ \hline 27 \\ + 54 \\ \hline 567 \end{array}$$




$$7+2+0=9$$

- 2) Yukarıdaki çarpma işlemlerini yaptığımızda "?" yerine gelecek sayının rakamları toplamı kaç olur?

A) 15

**B) 9**

C) 8



- 3) Yukarıda modelle gösterilen bölme işlemi hangisidir?

**A) 26:4**

B) 6:4

C) 24:4

$$\begin{array}{r} 83 \overline{) 4} \\ - 8 \\ \hline 03 \end{array}$$

$$\begin{array}{r} 47 \overline{) 5} \\ - 45 \\ \hline 02 \end{array}$$

- 4) Yukarıdaki bölme işlemleri göre A+B kaçtır?

A) 4

**B) 22**

C) 25

$$20+2=22$$

- 5) Bir çiftlikte 12 inek vardır. İnek sayısının yarısının 3 fazlası kadar da tavuk vardır. Buna göre tavukların ayak sayısı kaçtır?

A) 36

**B) 18**

C) 9

$$\begin{array}{r} 12 \overline{) 2} \\ - 12 \\ \hline 00 \end{array}$$

$$\begin{array}{r} 6 \\ + 3 \\ \hline 9 \text{ tavuk} \end{array}$$

$$\begin{array}{r} 9 \\ \times 2 \\ \hline 18 \text{ ayak sayısı} \end{array}$$

- 6) Bir sinema salonunda 210 koltuk vardır. Salonunda 54 erkek izleyici vardır. Erkek izleyicilerin 2 katından 5 eksik de kadın izleyici olduğuna göre salonunda kaç boş koltuk vardır?

**A) 53**

B) 103

C) 157

$$\begin{array}{r} 54 \\ \times 2 \\ \hline 108 \end{array}$$

$$\begin{array}{r} 108 \\ - 5 \\ \hline 103 \text{ kadın} \end{array}$$

$$\begin{array}{r} 103 \\ + 54 \\ \hline 157 \text{ toplam izleyici} \end{array}$$

$$\begin{array}{r} 210 \\ - 157 \\ \hline 53 \text{ boş koltuk} \end{array}$$

- 7) 10'dan başlayarak dörder ileriye doğru sayarken 2. Ve 5. Saymada söylediğimiz sayıların çarpımı kaçtır?

A) 540

**B) 364**

C) 344

$$\frac{1}{10} \left( \frac{2}{14} \right) \frac{3}{18} \frac{4}{22} \left( \frac{5}{26} \right)$$

$$\begin{array}{r} 26 \\ \times 14 \\ \hline 104 \\ + 26 \\ \hline 364 \end{array}$$

### 3. SINIF NİSAN AYI MİNİ DENEME SINAVI

- 8) Enes 6 tane misketi 24 liraya almıştır. Enes 17 misket alsaydı kaç lira para öderdi?

- (A) 68  
(B) 78  
(C) 102

$$\begin{array}{r} 24 \overline{) 6} \\ -24 \overline{) 4} \text{ lira 1 misket} \\ \hline 00 \end{array}$$


$$17 \times 4 = 68$$

- 9) 60'a yuvarlanabilen en büyük sayının  $\frac{3}{8}$ 'ünün çeyreği kaçtır?

- (A) 2  
(B) 6  
(C) 10

60'a yuvarlanan en büyük sayı  $\downarrow$  64

$$\begin{array}{r} 64 \overline{) 8} \\ -64 \overline{) 8} \\ \hline 00 \end{array}$$

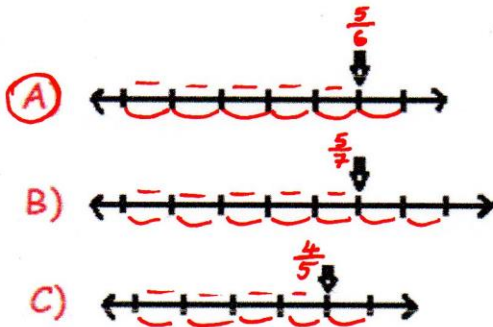


$$\begin{array}{r} 24 \overline{) 4} \\ -24 \overline{) 6} \text{ cevap} \\ \hline 00 \end{array}$$

$$\frac{5}{6}$$

- 10) Yukarıdaki kesrin sayısı doğrusunda

gösterimi hangi seçenekte doğru verilmiştir?



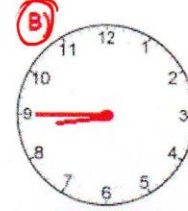
Saat dokuza çeyrek var

$\rightarrow 08.45$

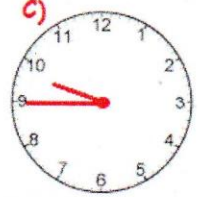
- 11) Yukarıdaki okunuşu verilen saat aşağıdaki seçeneklerden hangisinde doğru verilmiştir?



09.15



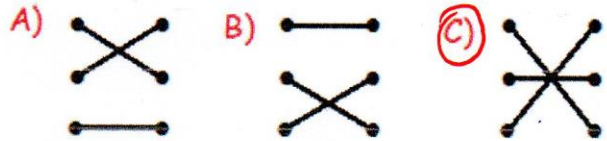
08.45



09.45

<del>2 sa + 5 dk</del>	<del>195 dk</del>
<del>1 sa + 55 dk</del>	<del>115 dk</del>
<del>3 sa + 15 dk</del>	<del>125 dk</del>

- 12) Yukarıdaki eşleştirmeleri doğru bir şekilde yaptığımızda hangi seçen doğru olur?



- 13) Televizyonda 19.40' ta başlayan bir film 21.15'te bitmiştir. Buna göre film ne kadar sürmüştür?

A) 2 sa 35 dk

B) 2 sa 25 dk

C) 1 sa 35 dk

$$\begin{array}{r} 21.15 \\ -19.40 \\ \hline 01.35 \end{array}$$

**MATEMATİK TESTİ BİTMİŞTİR**

### 3. SINIF NİSAN AYI MİNİ DENEME SINAVI

#### FEN BİLİMLERİ

1) Aşağıdaki maddenin halleriyle ilgili verilen bilgilerden hangisi yanlıştır?

\* Sıvılar sıkıştırılmaz

- A) Sıvı ve gaz maddeler sıkıştırılabilirler.  
B) Kum, tuz ve un gibi maddeler katı maddelerdir. ✓  
C) Gazlar buldukları ortama yayılırlar. ✓

Y	Oyun hamuru esnek bir maddedir.
D	Cam kırılğan bir yapıya sahiptir.
D	Halı pürüzlü bir maddedir.

2) Yukarıdaki ifadelerden doğru olanlara 'D', yanlış olanlara 'Y' yazdığımızda hangisi doğru olur?

- A) 

Y
Y
D

 B) 

Y
D
D

 C) 

D
D
Y

3) Aşağıdaki verilen bilgilerden hangisi yanlıştır?

- A) Ses kirliliğine gürültü denir. ✓  
B) Her sesin bir kaynağı vardır. ✓  
C) Ses kaynağından uzaklaştıkça sesin şiddeti artar.   
azalır

Y ampul	D ateş böceği
Y mum	Y meşale
D Güneş	D yıldızlar

4) Yukarıdaki tabloda doğal ışık kaynaklarına "D", yapay ışık kaynaklarına "Y" yazılırsa hangi seçenek doğru olur?

A) 

D	Y
D	D
Y	Y

B) 

Y	D
Y	D
D	Y

C) 

Y	D
Y	Y
D	D

5) Aşağıdakilerden hangisi canlıların hareket etmesine örnek olamaz?

- A) <sup>canlı</sup> Ayçiçeğinin yönünü Güneş'e dönmesi  
B) <sup>canlı</sup> Bebeğin emeklemesi  
C) <sup>canlı</sup> Rüzgarda poşetin havaya uçması

\*Çoğalırlar

\*Solunum yaparlar

\*Yer değiştirirler  
Bitkiler yer değiştirmez

\*Beslenirler

\*Yürürler  
Bitkiler yürümez

\*Büyür ve gelişirler

6) Yukarıdakilerden kaç tanesi canlıların ortak özelliklerindedir?

A) 3

B) 4

C) 5

FEN BİLİMLERİ TESTİ BITMİŞTİR

### 3. SINIF NİSAN AYI MİNİ DENEME SINAVI

#### HAYAT BİLGİSİ

1) Aşağıdaki bilgilerden hangisi yanlıştır?

- A) Okul sıralarımızı çizmemeliyiz. ✓  
B) Okulu temiz tutmak hizmetlilerin hepimizin görevidir.  
C) Teneffüslerde tahtayı karalamamalıyız. ✓

2) Aşağıdaki trafik işaret ve levhalarından hangisi YAYA GİREMEZ anlamına gelir?



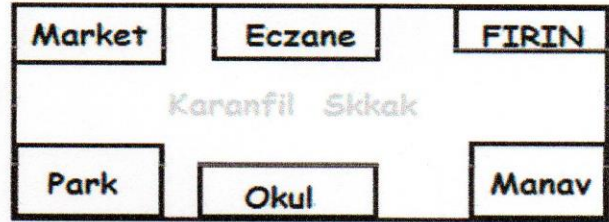
3) Aşağıdakilerden hangisi güvenliğimiz için yapmamız gereken davranışlardan değildir?

- A) Yabancı kişileriz verdiği yiyeceği alabiliriz. Almamalıyız  
B) Kendimizi güvende hissetmediğimizde bağırmalıyız. ✓  
C) Ailemizi tanıdığını söyleyen kişilere güvenmemeliyiz. ✓

\*Ayşe gereksiz yanan lambaları kapatır ve suyu gereksiz kullanmaz.

4) Yukarıdaki Ayşe ile ilgili verilen bilgiye göre hangisi söylenebilir?

- A) Tutumlu biri değildir.  
B) Kaynakları israf eder.  
C) Kaynakları verimli kullanır.



1-Parkın sağında...Okul... vardır.

2-Eczanenin solunda...Market... vardır.

5) Yukarıdaki krokiye göre boşluklara sırasıyla hangileri gelmelidir?

- A) Manav - Market  
B) Okul - Market  
C) Okul - Fırın

6) Acil bir durumla karşılaştığımızda hangi numarayı aramalıyız?

- A) 110    B) 112    C) 122  
Acil Durum

HAYAT BİLGİSİ TESTİ BİTMİŞTİR

### 3.SINIF NİSAN AYI MİNİ DENEME SINAVI CEVAP ANAHTARI

TÜRKÇE	MATEMATİK	FEN BİLİMLERİ	HAYAT BİLGİSİ
1- (A) (B) (C)	1- (A) (B) (C)	1- (A) (B) (C)	1- (A) (B) (C)
2- (A) (B) (C)	2- (A) (B) (C)	2- (A) (B) (C)	2- (A) (B) (C)
3- (A) (B) (C)	3- (A) (B) (C)	3- (A) (B) (C)	3- (A) (B) (C)
4- (A) (B) (C)	4- (A) (B) (C)	4- (A) (B) (C)	4- (A) (B) (C)
5- (A) (B) (C)	5- (A) (B) (C)	5- (A) (B) (C)	5- (A) (B) (C)
6- (A) (B) (C)	6- (A) (B) (C)	6- (A) (B) (C)	6- (A) (B) (C)
7- (A) (B) (C)	7- (A) (B) (C)	7- (A) (B) (C)	7- (A) (B) (C)
8- (A) (B) (C)	8- (A) (B) (C)	8- (A) (B) (C)	8- (A) (B) (C)
9- (A) (B) (C)	9- (A) (B) (C)	9- (A) (B) (C)	9- (A) (B) (C)
10- (A) (B) (C)	10- (A) (B) (C)	10- (A) (B) (C)	10- (A) (B) (C)
11- (A) (B) (C)	11- (A) (B) (C)	11- (A) (B) (C)	11- (A) (B) (C)
12- (A) (B) (C)	12- (A) (B) (C)	12- (A) (B) (C)	12- (A) (B) (C)
13- (A) (B) (C)	13- (A) (B) (C)	13- (A) (B) (C)	13- (A) (B) (C)
14- (A) (B) (C)	14- (A) (B) (C)	14- (A) (B) (C)	14- (A) (B) (C)
15- (A) (B) (C)	15- (A) (B) (C)	15- (A) (B) (C)	15- (A) (B) (C)