

Adı:

Soyadı:

3. SINIF HAFTALIK DEĞERLENDİRME 13. HAFTA

1) Aşağıdaki kelimeleri alfabetik sıraya göre sıralayalım.

<input type="checkbox"/> kitap	<input type="checkbox"/> musluk
<input type="checkbox"/> sakız	<input type="checkbox"/> minder
<input type="checkbox"/> gül	<input type="checkbox"/> martı
<input type="checkbox"/> inek	<input type="checkbox"/> müzik

4) Aşağıdaki verilen çarpma işlemlerini yapalım.

$6 \times 4 =$	$3 \times 9 =$	$7 \times 8 =$
$8 \times 0 =$	$7 \times 5 =$	$9 \times 8 =$
$6 \times 7 =$	$3 \times 7 =$	$10 \times 3 =$
$6 \times 6 =$	$9 \times 5 =$	$4 \times 4 =$

2) Aşağıdaki kelimelerden yazımı doğru olanlara "D", yanlış olanlara "Y" yazalım.

<input type="checkbox"/> şarj	<input type="checkbox"/> her şey
<input type="checkbox"/> tıraktör	<input type="checkbox"/> şöför
<input type="checkbox"/> filim	<input type="checkbox"/> eczane
<input type="checkbox"/> makine	<input type="checkbox"/> stres

5) Aşağıdaki çarpma işlemlerini yapalım.

$\begin{array}{r} 74 \\ \times 6 \\ \hline \end{array}$	$\begin{array}{r} 85 \\ \times 7 \\ \hline \end{array}$	$\begin{array}{r} 156 \\ \times 4 \\ \hline \end{array}$
$\begin{array}{r} 23 \\ \times 35 \\ \hline \square\square\square \\ + \square\square \\ \hline \end{array}$	$\begin{array}{r} 31 \\ \times 26 \\ \hline \square\square\square \\ + \square\square \\ \hline \end{array}$	

3) Aşağıdaki cümlelerden doğru olanlara "D", yanlış olanlara "Y" yazalım.

- ( ) Elektrik su gibi kaynaklar zamanla tükenebilir.
- ( ) Kaynakları bilinçli ve tasarruflu kullanmalıyız.
- ( ) Banyo yaparken musluğu açık bırakmalıyız.

6) Aşağıdaki maddeleri özellikleri ile eşleştirelim. (Bir maddenin birden fazla özelliği olabilir)

<input type="checkbox"/> ayna	<input type="checkbox"/> kırılkan
<input type="checkbox"/> sünger	<input type="checkbox"/> esnek
<input type="checkbox"/> kalem	<input type="checkbox"/> sert
	<input type="checkbox"/> pürüzsüz
	<input type="checkbox"/> yumuşak

Adı:

Soyadı:

3. SINIF HAFTALIK DEĞERLENDİRME 13. HAFTA

7) Aşağıdaki cümlelerin hangisinde virgül farklı bir görevde kullanılmıştır?

- A) Kedi, köpek ve kuşu severim.
- B) Yemeğimi yedim, kitap okudum.
- C) Abim elma, nar ve üzüm yer.

11) Onlar basamağı 8 olan üç basamaklı en büyük çift sayının 189 eksiği kaç olur?

- A) 495
- B) 797
- C) 799

★ sabun ■ kedi ▲ masa ● susam

8) Yukarıdaki kelimeleri sözlük sırasına göre sıralarsak hangi seçenek doğru olur?

- A) ■, ▲, ★, ●
- B) ★, ■, ▲, ●
- C) ●, ★, ▲, ■

12) Yandaki tabloya göre  $A+B+C$  kaç olur?

X	4	6	8	9
2				
5			B	
7		A		
8				C




- A) 139
- B) 154
- C) 160

9) Aşağıdaki cümlelerden hangisinde zıt anlamlı sözcükler bir arada verilmiştir?

- A) Az zamanda çok iş yaptık.
- B) Kalem aldım ama silgi almadım.
- C) Küçük yaşta güzel işler yaptı.

9x4	9x5	8x8
7x7	7x8	5x3

13) Sonucu çift sayı olanları boyarsak hangi seçenek doğru olur?

- A) 
- B) 
- C) 

10) Aşağıdakilerden hangisi çocukların sorumlulukları arasında değildir?

- A) Çantasını hazırlamak.
- B) Alışveriş yapmak.
- C) Odasını toplamak.

14) Aşağıdaki bilgilerden hangisi yapılandırıcıdır?

- A) Kimyasal maddelerle çalışırken maske kullanmalıyız.
- B) Deney malzemeleri kullanırken etiketleri okumalıyız.
- C) Bozulmuş besinleri yemeliyiz.