

Adı:

Soyadı:

### 3. SINIF HAFTALIK DEĞERLENDİRME 4. HAFTA

\* Aşağıdaki kelimelerin ünlü harflerini yazalım ve hecelerine ayıralım.

KELİMELER	ÜNLÜ HARFLER	HECELERİNE AYIRMA
Bayburt		
seminer		
kırkayak		
aile		
anahtarcı		





\* Aşağıdaki verilen sayılar tek ise "T", çift ise "Ç" yazalım

358	808	75
600	263	311
109	992	807
576	294	596

\* Aşağıdaki verilen kelimelerin zıt anlamlılarını karşılarına yazalım.

savaş-	cömert-
tenha-	kuzey-
ceza-	yüksek-
sabah-	öz-





\* Aşağıdaki istenilen sayıları bulutların içlerine yazalım.

- Üç basamaklı en büyük çift sayı kaçtır? 
- Üç basamaklı en küçük tek sayı kaçtır? 
- Üç basamaklı rakamları farklı en küçük çift sayı kaçtır? 
- Üç basamaklı rakamları farklı en büyük tek sayı kaçtır? 

\* Aşağıdaki verilen bilgilerden doğru olanlara "D", yanlış olanlara "Y" yazalım.

- Okulda yardımlaşma ve hoşgörülü olmayı öğreniriz.
- Okulda kendimize olan güvenimiz azalır.
- Toplum içinde nasıl davranmamız gerektiğini okulda öğreniriz.
- Okul bizi hayata hazırlar.

\* Aşağıdaki cümlelerin ilgili oldukları duyu organlarını yazalım.

- Yemeğin tuzu biraz fazlaydı. 
- Sanki kapı çalıyor. 
- Bu masanın üstü pürüzlüymüş. 
- Soğukta çok üşümüş. 



Adı:

Soyadı:

### 3. SINIF HAFTALIK DEĞERLENDİRME 4. HAFTA

①  $\triangle$  Annem pazara gitti.  
 $\square$  Okula erken gidelim mi?  
 $\star$  Kitap okumayı unutma.  
Yukarıdaki cümlelerden hangilerinin hece sayısı eşittir?

- A)  $\triangle$  -  $\star$   
B)  $\square$  -  $\triangle$   
C)  $\star$  -  $\square$

⑤ 8-13-18- $\square$ -28- $\triangle$   
Sayı örüntüsünde boş yerlere hangi sayılar gelmelidir?

- A)  $\square$  15 -  $\triangle$  23  
B) 23 - 33  
C) 21 - 36

② "Heyecanla beklediğim arkadaşım  $\square$   
 $\heartsuit$  Parlak çantasıyla karşımdaydı."

Bu cümlede şekillerle gösterilen kelimelerden hangisinin zıt anlamlısı "mat" dir?

- A)  $\heartsuit$  B)  $\square$   
C)  $\bullet$

⑥

145	618	100
491	712	917

Tabloda çift sayıların bulunduğu kutucuklar boyandığında tablo nasıl görünür?

- A)  B)  C) 

③

sağlam  $\rightarrow$  çürük  
medeni  $\rightarrow$  kabul  
galip  $\rightarrow$  mağlup

Yukarıda eşleştirilen zıt anlamlı kelimelerden hangisi yanlış eşleştirilmiştir?

- A) sağlam B) medeni  
C) galip

⑦

Postane	Eczane	Okul
Spor Salonu	Park	Hastane

Krokiye göre eczanenin sol tarafında ne vardır?

- A) Okul  
B) postane  
C) Park

④

348-765-384-516

Doğal sayıların büyükten küçüğe doğru sıralanışı hangi seçenekte doğru verilmiştir?

- A)  $765 > 516 > 384 > 348$   
B)  $348 < 384 < 516 < 765$   
C)  $765 > 516 > 348 > 384$

⑧ "Rüzgarın uğultusuyla ağacın dalları sallanıyordu" cümlesinde hangi duyu organları kullanılmıştır?

- A) Dil - kulak  
B) Burun - deri  
C) Kulak - göz