

Adı:

Soyadı:

## 2. SINIF HAFTALIK DEĞERLENDİRME (3. HAFTA)

1

\*Aşağıdaki kelimelerden hecelerine doğru ayrılmış olanları boyayalım.

ka-ne-pe

trak-tör

e-ko-no-mi

ay-ak-ka-bı

tr-en

kırk-a-yak

\*Aşağıdaki kelimelerin zıt anlamlılarını bulup aynı numarayı yazalım.

1	doğu	güney
2	usta	acemi
3	alçak	batı
4	ucuz	bayat
5	kuzey	pahalı
6	taze	yüksek

\*Belirtilen hece sayısına göre kutulara kelimeler yazalım.

4 heceli

2 heceli

1 heceli

3 heceli

\*Aşağıdaki soruları cevaplayalım.

MARKET

OKUL

CAMI

PARK

ECZANE

EV

• Okulun solunda ne vardır?

• Okulun karşısında ne vardır?

Aşağıdaki verilen kelimeleri alfabetik sıraya göre yazalım.

mavi

pembe

sarı

1-..... 2-..... 3-.....

askı

ayak

akıl

1-..... 2-..... 3-.....

Aşağıda verilen İngilizce kelimelerdeki eksik harfleri tamamlayalım.



kanga\_o\_



\_ago\_



r\_di\_



ba\_ketb\_ll



\_izz\_



ba\_lo\_n

Adı:

Soyadı:

## 2. SINIF HAFTALIK DEĞERLENDİRME (3.HAFTA)

2

\*Aşağıdaki verilen sayıların basamak adlarını yazalım.


64




25



Aşağıdaki verilen sayılardan başlayarak ikişer ileriye sayalım.




\*Aşağıdaki bulutlardan 1 destesini maviye boyayalım. 1 düzinesini yeşile boyayalım.



\*Aşağıdaki sayıdan başlayarak ikişer geriye sayalım.



\*Aşağıdaki sayıdan başlayarak beşer ileriye sayalım.



\*İleriye doğru onar yazalım



\*Aşağıdaki istenilen sayıların basamak değerlerini yazalım.

37



45



19



82



\*Aşağıdaki ifadelerden doğru olanlara D, yanlış olanlara Y yazalım.

- 1 düzinenin 5 fazlası 16'dır.
- 2 düzine, 3 desteden fazladır.
- 1 destenin 2 fazlası düzinedir.