


\* Aşağıda basamak adları verilen sayıları bulalım.

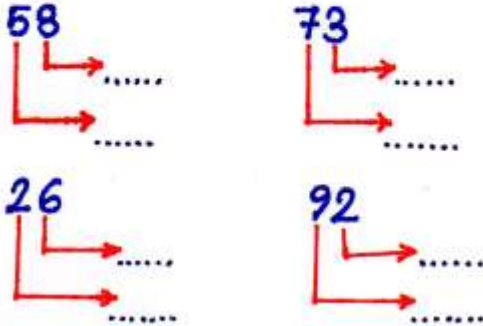
Birler basamağı: 7   
Onlar basamağı: 2

Onlar basamağı: 4   
Birler basamağı: 5


\* Toplamları bir desteye eşit olan bulutları aynı renge boyayalım.



\* Aşağıda verilen sayıların basamak değerlerini yazalım.



\* 1 düzine elma, 1 deste armut boyayalım.



\* Onluk ve birlikleri verilen sayıları yazalım.

→ 2 onluk + 8 birlik =

→ 4 birlik + 1 onluk =

→ 7 birlik + 3 onluk =

→ 5 onluk + 9 birlik =

\* Mete'nin 2 düzine misketi vardır. Misketlerinden 5 tanesini kaybetti. Geriye kaç misketi kaldı?

\* 8 tane elma, 1 destede muz aldım. Toplam kaç meyve aldım?

\* Aşağıda verilen harflerden önce ve sonra gelen harfleri yazalım.

C

K

O

Y

G

P

\* Aşağıdaki verilen kelimeleri hecelerine ayıralım.

→ süpürge

→ kırkayak

→ greyfurt

→ dertli

\* Aşağıdaki verilen kelimeleri alfabetik sıraya göre numaralandıralım?

- sandalye  
 kalabalık  
 yenilik

- kalem  
 kitap  
 kemer

\* Aşağıdaki cümlelerden doğru olanlara D, yanlış olanlara Y yazalım.

- ( ) Çantamızı annemiz hazırlamalı  
 ( ) Ödevlerimizi düzenli yapmalıyız.  
 ( ) Okula hazırlıklı gelmek başarımızı artırır.

\* Aşağıda verilen cümleler kaç heceden oluşmuştur.

- Dün akşam erken uyudu.   
 • Derslerime çalışıyorum.   
 • Bir hafta yedi gündür.   
 • Bir yılda on iki ay var.

\* 3 tane sınıf kuralı yazalım.

1-

2-

3-